

# बूझो मेरा नाम बनाओ मेरा चित्र

दोस्तों के साथ पहेली बनाने और बूझने का खेल खेलो।

मेरी लाल चोंच है।  
हरे पंख हैं।

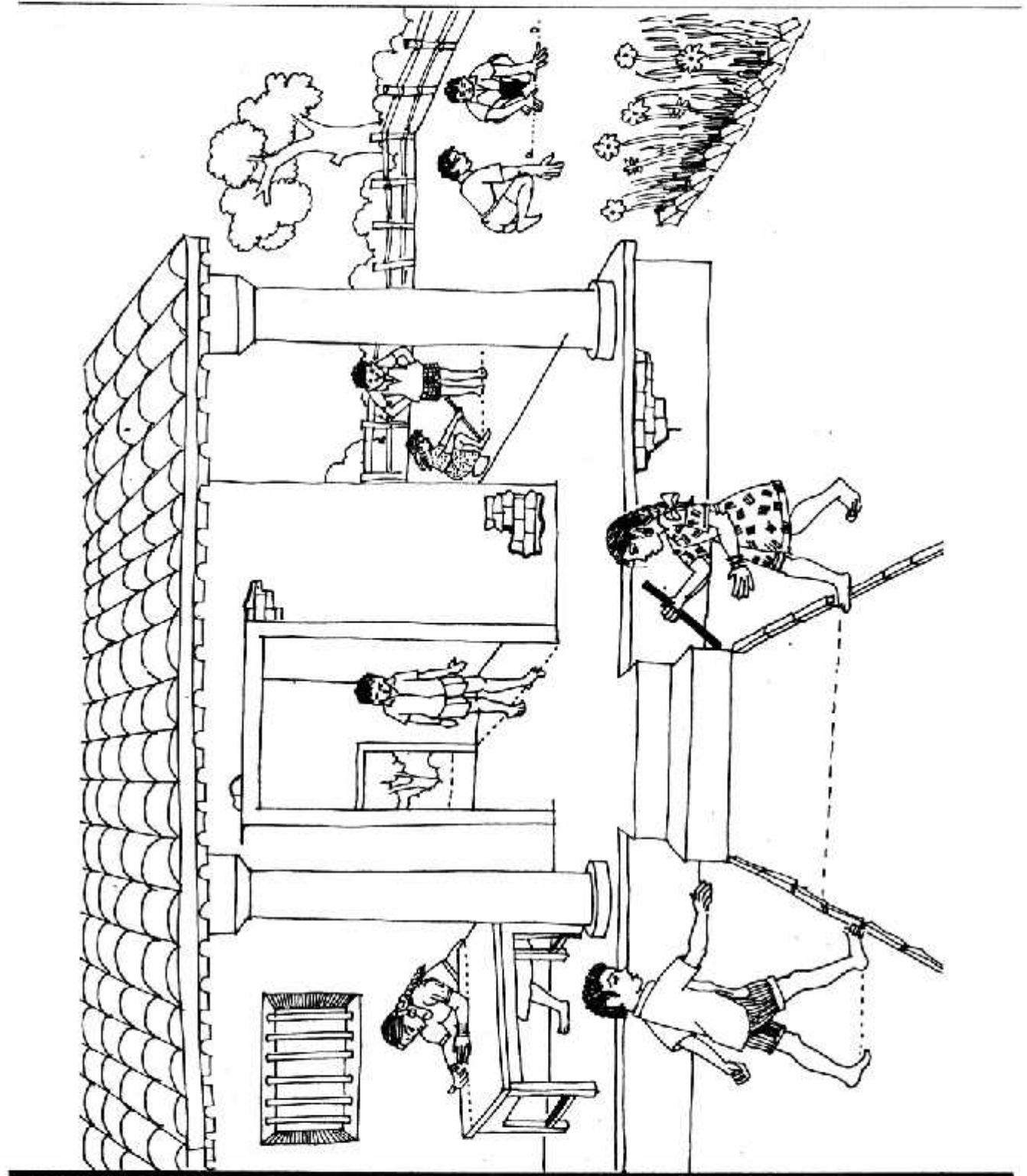
दो चक्के वाली हूँ।  
घंटी मेरी बजती टिन-टिन।

सफेद हूँ लिखने के  
काम आती हूँ।

लाल हूँ गोल हूँ मीठी हूँ।

पानी में रहता हूँ कड़ी पीठ है।  
धीरे-धीरे चलता हूँ।

चार पैर हैं, बैठने के काम आती हूँ।



## नपाई

आज हम स्कूल में नपाई करेंगे। शुरु करने से पहले अंदाज़ा लगाओ कि बरामदा कितना लंबा है? अगर तुम एक सिर से दूसरे सिर तक चल कर जाओ तो कितने कदम बनेंगे? चलो बरामदे के एक छोर से दूसरे छोर तक चल कर देखते हैं। कितने कदम बने?

टेबिल, तख्ते, कुर्सी जैसी चीज़ों को कदमों से तो नहीं नाप सकते। इन्हें किससे नापें? किसी और चीज़ से नाप सकते हैं क्या?

इन्हें बित्ते और अंगुल से नापो। स्कूल की अन्य चीज़ें भी नापो।

### नाप :-

टेबिल.....बित्ते.....अंगुल लंबा है।  
तख्ता.....बित्ते.....अंगुल लंबा है।  
बरामदा.....कदम लंबा है।  
बरामदा.....कदम चौड़ा है।  
मैदान.....उंडे लंबा है।

- क्रम में लिखो। पहले सबसे लंबा।  
मैदान  
बरामदा

मैदान बरामदे से लंबा है। बरामदा कक्षा से लंबा है।  
पट्टी तख्ते से छोटी है। पट्टी माचिस से लंबी है।

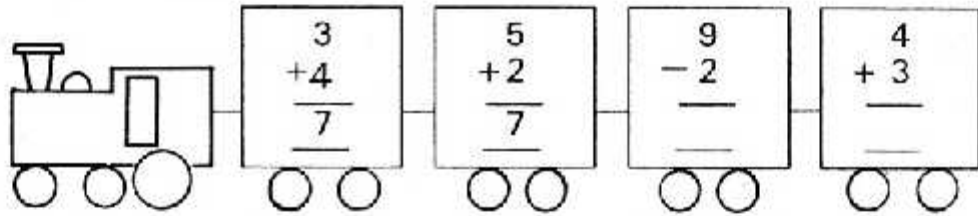
- ऐसे और वाक्य बनाओ। और चीज़ों के साथ।
- स्कूल की और चीज़ें भी नापो।
- घर में या खेलते समय तुम और किन चीज़ों से नापते हो?

# अंक गाड़ी

बच्चो ध्यान से देखो  
बड़े मजे की बात

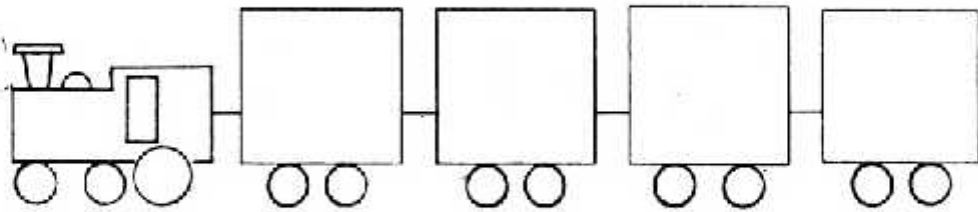
अंक गाड़ी का हर डिब्बा है  
अंक बताता सात

7



आई अब पन्द्रह की बारी, डिब्बे चुनकर बनाओ गाड़ी

15



इन डिब्बों में से चुनकर सही अंक गाड़ी के साथ जोड़ो। जो जोड़ दिया उसे काटते जाओ।

$$\begin{array}{r} 16 \\ -1 \\ \hline \end{array}$$

$$\begin{array}{r} 9 \\ +0 \\ \hline \end{array}$$

$$\begin{array}{r} 11 \\ -2 \\ \hline \end{array}$$

$$\begin{array}{r} 10 \\ +5 \\ \hline \end{array}$$

$$\begin{array}{r} 20 \\ -5 \\ \hline \end{array}$$

$$\begin{array}{r} 1 \\ +8 \\ \hline \end{array}$$

$$\begin{array}{r} 12 \\ -3 \\ \hline \end{array}$$

$$\begin{array}{r} 12 \\ +3 \\ \hline \end{array}$$

## पारुल और चाँद

पारुल चलती चाँद चलता,  
चलता पारुल संग।  
पारुल दौड़ी चाँद दौड़ा,  
दौड़ा पारुल संग।  
पारुल ठिठकी चाँद ठिठका,  
ठिठका पारुल संग।  
पारुल ठहरी चाँद ठहरा,  
ठहरा पारुल संग।



पारुल	चाँद	सुरता	टिल्लू
दौड़ी	दौड़ा	दौड़ी	दौड़ा
चलती	चलता	.....	.....
ठिठकी	ठिठका	.....	.....
ठहरी	ठहरा	.....	.....
पकड़ी	.....	.....	.....
गाती	.....	.....	.....

तुम भी देखो कि चाँद तुम्हारे साथ दौड़ता है या नहीं।

- तुम्हारे रुकने पर रुकता है या नहीं?

---

## मौखिक हल करो.....

सुरता के पास 5 आम थे। टिल्लू ने उसे दो आम और दिए। सुरता के पास अब कितने आम हैं?

मटरू के पास 4 बैल थे। कल्लू से उसने 5 बैल और लिए। उसके पास कुल कितने बैल हैं?

रानू के पास 15 गोटियाँ थीं। उसे 4 गोटियाँ और मिलीं। उसके पास अब कितनी गोटियाँ हैं?

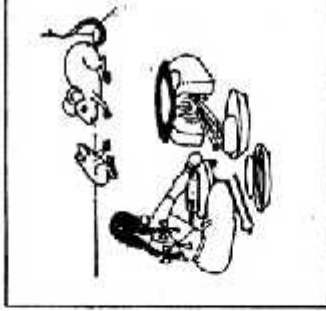
राजू के पास 8 बकरियाँ थीं। उनमें से उसने 3 बेच दीं। उसके पास कितनी बकरियाँ बचीं?

बंदर 17 केले लाया। उसने 5 खा लिए। उसके पास कितने केले बाकी बचे?

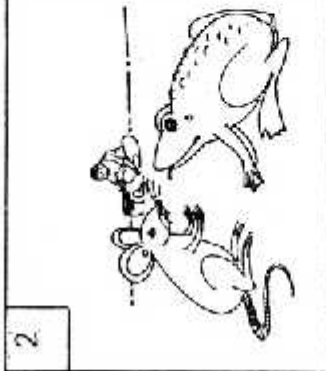
लछमी ने 1 रुपये के 5 के हिसाब से बिही खरीदीं। उसे 6 रुपये में कितनी बिही मिलीं?

ऑक्टोपस नामक समुद्री जीव की आठ बाहें होती हैं। इनसे ही यह मछली पकड़ता है। 2 ऑक्टोपस की कितनी बाहें होंगी? 10 ऑक्टोपस की कितनी बाहें होंगी?

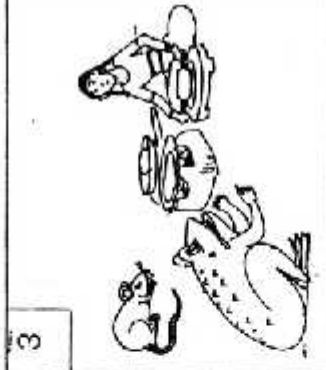
कक्षा में कुल 15 बच्चे हैं। इनमें से 7 पढ़ रहे हैं। बाकी शैतानी कर रहे हैं। कितने बच्चे शैतानी कर रहे हैं?



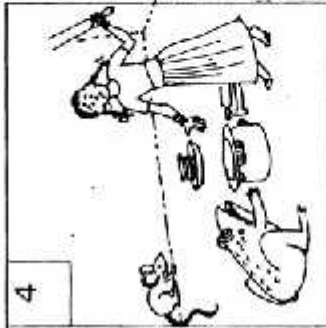
2



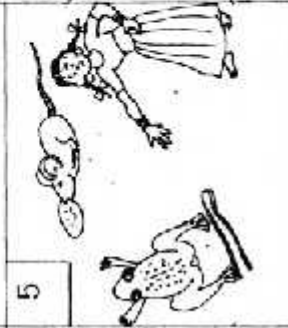
3



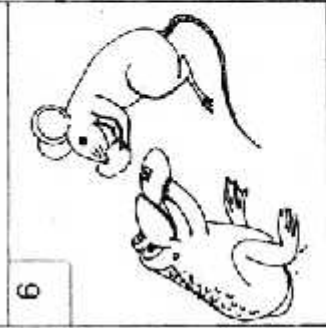
4




5



6



7



● साथ के वाक्यों को कम में लिखकर कहानी बनाओ।

\_\_\_\_\_

\_\_\_\_\_

\_\_\_\_\_

\_\_\_\_\_

\_\_\_\_\_

\_\_\_\_\_

\_\_\_\_\_

\_\_\_\_\_

\_\_\_\_\_

\_\_\_\_\_

- लछमी ने गुस्से में चिमटा उठा लिया।
- रोटी देखकर चूहे और मेंढक ने एक चाल सोची।
- मेंढक ने जाकर लछमी से रोटी मांगी।
- मेंढक कूद कर बचा और चूहा रोटी ले भागा।
- लछमी रोटी बना रही थी।

● वाक्यों को सही चित्र से जोड़ो और उसका अंक लिखो।

## सबसे ज़्यादा सबसे कम

फूल गिन कर उनके ऊपर बने डिब्बों में लिखो





सबसे ज़्यादा फूल हैं \_\_\_\_\_

उससे कम फूल हैं \_\_\_\_\_

सबसे कम फूल हैं \_\_\_\_\_

इन फूलों की संख्या को घटते क्रम में

ऐसे भी लिख सकते हैं  6  5  4



चित्र में गिन कर संख्या लिखो

आम

बच्चे

चिड़ियाँ

सबसे ज़्यादा \_\_\_\_\_ हैं \_\_\_\_\_

उससे कम \_\_\_\_\_ हैं \_\_\_\_\_

सबसे कम \_\_\_\_\_ हैं \_\_\_\_\_

इन्हें घटते क्रम में लिखो

तुम भी ऐसे चित्र बनाओ और अपने साथी से सबसे कम सबसे ज़्यादा गिन कर बताने को कहो।

घटते क्रम में अगला क्या होगा ?

8, 7 \_\_\_\_\_

5, 4 \_\_\_\_\_

बढ़ते क्रम में अगला क्या होगा ?

9, 10 \_\_\_\_\_

15, 16 \_\_\_\_\_



## कौन सी चीज़ कहाँ?

शालू को बहुत सी चीज़ों के नाम आते हैं। उसने नामों को लिख-लिखकर पट्टी भर ली। वो नाम मैंने नीचे लिख दिये हैं। अब शालू ये सोच रही है कि किस नाम को किस खाने में लिखना है। क्या तुम उसकी मदद कर सकती हो? बाकी खानों में तुम खुद नाम सोचो और चुनकर सही जगह लिखो।

अक्षर	जानवर या पक्षी	पेड़ या पौधा	खाने पीने का सामान	खेल का नाम या सामान
ब	बकरी	बबूल	बेर	बल्ला
म	मगर	_____	_____	_____
क	_____	_____	ककड़	_____
ल	_____	_____	_____	लट्टू
प	_____	पीपल	_____	_____
ग	_____	_____	_____	गिल्ली
श	_____	_____	_____	_____

### शालू की सूची

शककर, कबड्डी, महुआ, पपीहा, मार-कुटाई, लोमड़ी, गुलाब-जामुन, शेर शीशम, ककड़ी, शतरंज, लजनी, कौसम, बल्ला, मगर, लड्डू, गाय, बेर, बबूल, पेड़ा, बकरी, पीपल, गिल्ली, कबूतर, पतंग, मसाला, गेंदा, लट्टू

● ऐसे ही खेल तुम और अक्षरों के साथ खेल सकते हो। अलग तरह के खाने भी बना सकते हो— जैसे, ट से शुरू होने वाली गोल या लाल चीज़।